

GEOGRAFÍA DE ESPAÑA

PRUEBA DE SELECTIVIDAD




Ejercicios

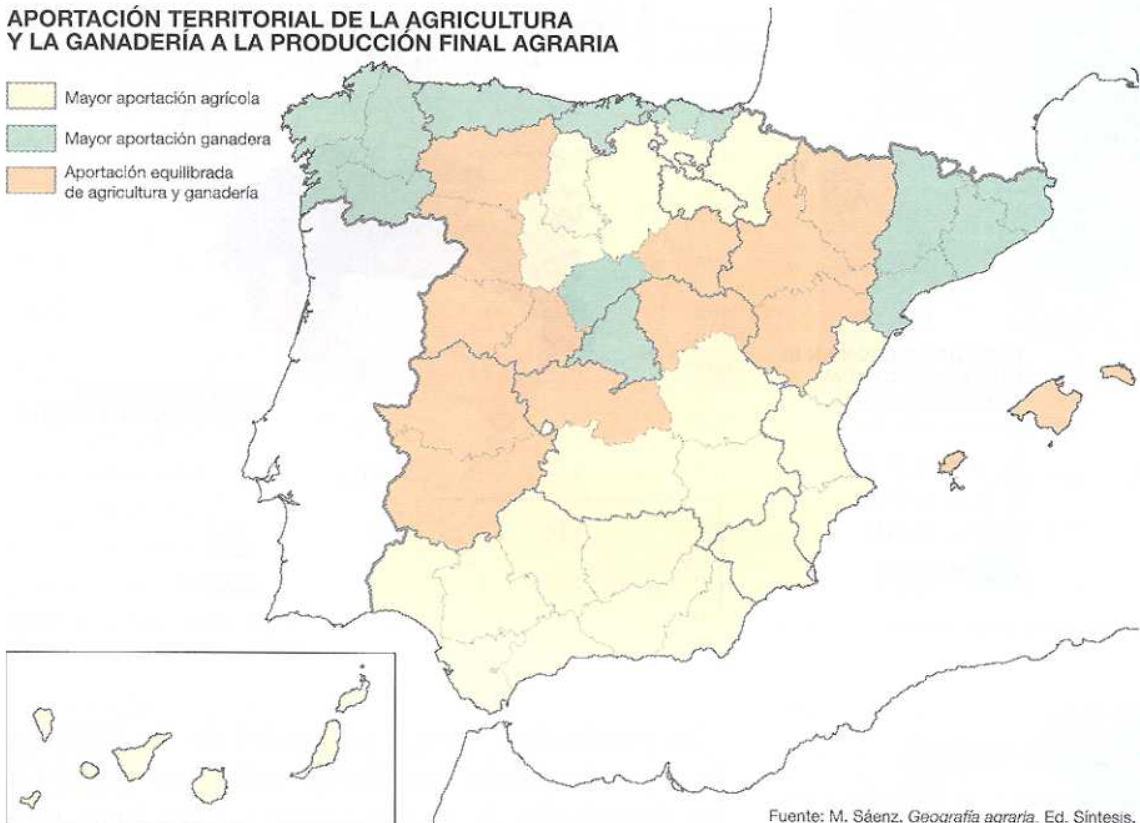
2. El mapa representa los usos del suelo agrario. Analízelo y conteste las cuestiones siguientes:
- Nombre todas las provincias que tienen una *aportación equilibrada de agricultura y ganadería*
 - ¿Qué relaciones pueden existir entre cada uno de estos usos y las condiciones naturales de España?
 - Elementos predominantes en los paisajes de las áreas con mayor aportación agrícola y elementos predominantes en los paisajes de las áreas con mayor aportación ganadera. Enumérelos y distíngalos.

(Valoración: hasta 3 puntos)

LOS USOS DEL SUELO AGRARIO

APORTACIÓN TERRITORIAL DE LA AGRICULTURA Y LA GANADERÍA A LA PRODUCCIÓN FINAL AGRARIA

-  Mayor aportación agrícola
-  Mayor aportación ganadera
-  Aportación equilibrada de agricultura y ganadería



Fuente: M. Sáenz. *Geografía agraria*. Ed. Síntesis.